


به نام خدا

آزمون ریاضی دوم ابتدایی فصل اول ۱ دبستان شهید زواریان عبدالرحیم حصیری
نام و نام خانوادگی : مهر ماه ۱۳۹۲ ناحیه شش مشهد مقدس

فرزندم به سوالات زیر پاسخ مناسب بده.



- با دو کارت روبرو چند عدد دو رقمی می توان نوشت ؟

.....
.....

- عبارت روبرو را روی محور نمایش داده و پاسخ را بنویس.

$$۱۵ - ۷ = \dots\dots$$



- با عدد مناسب جاهای خالی را کامل کن. (..... - ۷۳ - - - -)

(..... - - - -) (چهل و پنج)

- آرمان ۲۳ گردو دارد. اگر برادرش ۸ گردوی دیگر به او بدهد،
آرمان گردو دارد.

- به رقم و حروف بنویس.

حروفی	عددی	
		رقم یکی ۹ و رقم ده تایی ۴
		رقم یکی ۰ و رقم ده تایی ۷
		رقم ده تایی ۲ و رقم یکی ۵

- حاصل جمع های زیر را بنویس.

$$۵ + ۱۰ + ۵ + ۱۰ + ۵ + ۳ + ۱۰ = \dots\dots$$

$$۱۰ + ۵ + ۲۰ + ۳۰ + ۶ = \dots\dots$$

گروه های آموزشی ناحیه شش مشهد مقدس آرزوی موفقیت برای شما دارند

به نام خدا

آزمون ریاضی دوم ابتدایی فصل اول ۲ دبستان شهید زواریان عبدالرحیم حصیری
نام و نام خانوادگی: مهر ماه ۱۳۹۲ ناحیه شش مشهد مقدس

فرزندم به سوالات زیر پاسخ مناسب بده.

$$۳ + ۵ + ۴ + ۲ =$$

- حاصل جمع ها را با رنگ کردن مربع ها به دست بیاور.

--	--	--	--	--	--	--	--	--	--

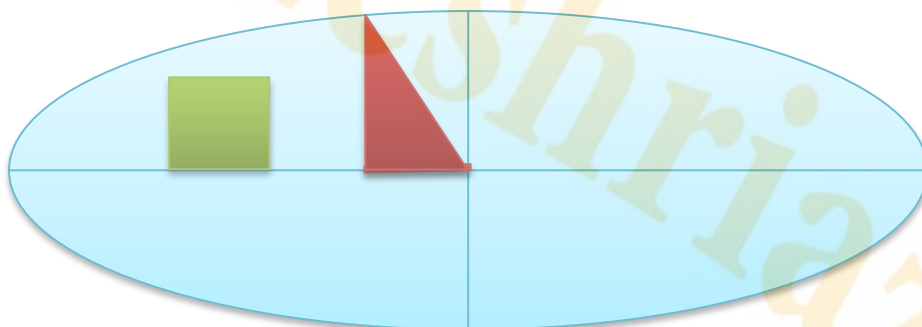
--	--	--	--	--	--	--	--	--	--

$$۵ + ۶ + ۷ =$$

--	--	--	--	--	--	--	--	--	--

--	--	--	--	--	--	--	--	--	--

- سه قسمت دیگر شکل را مثل قسمت داده شده با خط کش کامل کن که اگر شکل را از روی خط ها تا کنیم، قسمت های چپ و راست یا بالا و پایین روی هم بیفتند.



- تعداد مثلث ها را بشمارید و بنویسید.

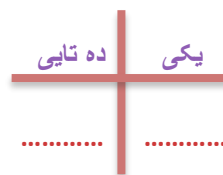


.....

- اگر امروز سه شنبه باشد ۹ روز دیگر چند شنبه می شود؟

سه شنبه - چهارشنبه - پنج شنبه - جمعه - شنبه - یک شنبه - دوشنبه

- با توجه به شکل جدول ها را کامل کن.



گروه های آموزشی ناحیه شش مشهد مقدس آرزوی موفقیت برای شما دارند